



ОКРУЖАЮЩИЙ МИР

1 НЕДЕЛЯ

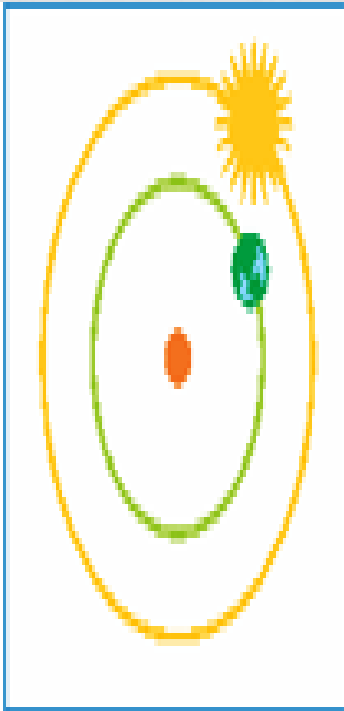


**ЗАДАНИЕ 1. НА КАКОЙ СХЕМЕ ВЕРНОЕ ИЗОБРАЖЕНИЕ
РАСПОЛОЖЕНИЯ ОРБИТ ДВИЖЕНИЯ СОЛНЦА, ЛУНЫ
И ЗЕМЛИ.**


1



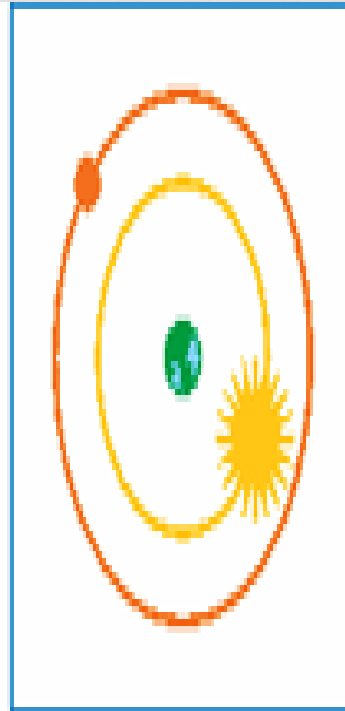
2




3



4



5



ОТВЕТ

- Изображение 3 - 1 балл

ЗАДАНИЕ 2. НАЗОВИ ОДНИМ СЛОВОМ.

1) Уменьшенная модель Земли - _____

2) Прибор для получения увеличенных изображений отдаленных объектов или исследования удаленных источников - _____

3) Воображаемая линия, которая делит земной шар на Северное и Южное полушария - _____

4) Небесное тело, расположенное ближе всего к Земле - _____

5) Искусственное сооружение, где можно увидеть небесную сферу со звездами, планетами и спутниками, а также солнечные и лунные затмения - _____

ОТВЕТ

- 1) глобус
- 2) телескоп
- 3) экватор
- 4) Луна
- 5) планетарий

3 балла:

0,5 балла за верный ответ, и 3 балла если все ответы верные

ЗАДАНИЕ 3. КТО СТАЛ ПЕРВЫМ КОСМОНАВТОМ ЗЕМЛИ?

- 1) А. Леонов
- 2) В. Терешкова;
- 3) Н. Армстронг
- 4) Ю. Гагарин
- 5) С. Савицкая

ОТВЕТ

- 4) Ю. Гагарин **1 балл**

ЗАДАНИЕ 4.

В каких горах вырос “Каменный цветок” Павла Петровича Бажова.

ОТВЕТ

Уральские горы **2 балла**

**ЗАДАНИЕ 5. КАКИЕ ИЗ УКАЗАННЫХ ПОЛЕЗНЫХ
ИСКОПАЕМЫХ ИСПОЛЬЗУЮТСЯ В КАЧЕСТВЕ
ТОПЛИВА:**

- 1) известняк и гранит;
- 2) железная руда и медный колчедан;
- 3) алюминиевая руда и кварцевый песок;
- 4) каменный уголь и природный газ.

ОТВЕТ

4) каменный уголь и природный газ **1 балл**

ЗАДАНИЕ 6.

В сказке английского писателя Л. Кэрролла «Приключения Алисы в стране Чудес» Алиса говорит: «Лучше возьмем географию. Лондон - это столица Парижа, а Париж - это столица Рима, а Рим... Нет, по-моему, опять что-то не совсем то!». А на самом деле, столицами каких стран являются Лондон, Париж и Рим?

ОТВЕТ

Англия - Великобритания,

Франция,

Италия

2 балла:

по 0,5 за каждую страну и 2 балла если все верно

ЗАДАНИЕ 7. КАКОЕ ЖИВОТНОЕ ЯВЛЯЕТСЯ СИМВОЛОМ ВСЕМИРНОГО ФОНДА ДИКОЙ ПРИРОДЫ.

- 1) медведь;
- 2) коала;
- 3) панда;
- 4) кондор;
- 5) пингвин.

ОТВЕТ

3) ПАНДА 1 балл

ЗАДАНИЕ 8. РАСПРЕДЕЛИ РАСТЕНИЯ ПО ЯРУСАМ.

Сосна, ковыль, смородина, чистотел, сирень,
орешник, ель, ландыш, берёза, ежевика, дуб,
ромашка.

Деревья: _____

Кустарники: _____

Травянистые растения: _____

ОТВЕТ

Деревья: сосна, ель, береза, дуб

Кустарники: смородина, сирень,
орешник, ежевика

Травянистые растения: ковыль, чистотел,
ландыш, ромашка

6 баллов:

0,5 - за каждое растение,

- **0,5** - за каждое неверное растение.

ЗАДАНИЕ 10. ГДЕ ОБИТАЮТ ДАННЫЕ ЖИВОТНЫЕ? УСТАНОВИ СООТВЕТСТВИЕ.

- | | |
|------------|--------------------------|
| 1) Почва | а) большой пестрый дятел |
| 2) Деревья | б) клопы-водомерки |
| 3) Вода | в) улитка |
| 4) Трава | г) дождевой червь |

ОТВЕТ

- 1) почва - г) дождевой червь
- 2) деревья - а) большой пестрый дятел
- 3) вода - б) клопы-водомерки
- 4) трава - в) улитка

3 балла:

1 балл – если все верно

ЗАДАНИЕ11. КАКАЯ ОТРАСЛЬ ЖИВОТНОВОДСТВА ЗАНИМАЕТСЯ РАЗВЕДЕНИЕМ САЗАНОВ?

- 1) ПТИЦЕВОДСТВО;
- 2) РЫБОВОДСТВО;
- 3) ПЧЕЛОВОДСТВО;
- 4) СКОТОВОДСТВО;
- 5) ЗВЕРОВОДСТВО

ОТВЕТ

1) 1 балл

ЗАДАНИЕ 12. УЗНАЙ ПО ОПИСАНИЮ.

1) Растут грибы гнездами, иногда по несколько десятков штук, и всегда встречаются лишь на пнях или корнях деревьев. Собирать их можно осенью. Шляпка у этих грибов светло-коричневая, с мелкими чешуйками. Ножка тонкая, с белой пленкой. Какие это грибы?

Ответ: _____

ЗАДАНИЕ 12. УЗНАЙ ПО ОПИСАНИЮ.

2) Меня называют «смотритель леса». Я просыпаюсь очень рано и начинаю свистеть, как будто будить всех ото сна. Живу я на дереве, в дупле. Всю жизнь я на ногах, бегаю туда-сюда, вверх-вниз по дереву, мне и крылья нужны только для того, чтобы перелетать с одного дерева на другое. Люблю орехи, липовые орешки, крылатки клена. Осенью я прячу корм под кору, чтобы зимой не голодать. А окраска у меня не очень заметная. Кто же я?

Ответ: _____

ЗАДАНИЕ 12. УЗНАЙ ПО ОПИСАНИЮ.

3) Это млекопитающее населяет берега рек и водоемов Австралии. Прекрасно плавает. Это животное живет в норе и откладывает яйца. Имеет уникальную внешность, и ученые долго спорили, к какому классу его отнести. Обладает ценным мехом. Его плоский хвост похож на хвост бобра. Кто это?

Ответ: _____

ОТВЕТ

- 1) опята
- 2) поползень
- 3) утконос

4 балла:

по 1 баллу за правильный ответ,
1 балл - если все верно.

ЗАДАНИЕ 13. ВЫБЕРИ ВЕРНЫЕ ВЫСКАЗЫВАНИЯ ОБ ОРГАНИЗМЕ ЧЕЛОВЕКА.

- 1) В непроветренном помещении мозг человека будет работать хуже.
- 2) Самый большой орган взрослого человека имеет площадь более одного метра.
- 3) В организме здорового, физически развитого человека не должно быть жира - от него нужно избавляться с помощью диеты и спорта.
- 4) Зрачок взрослого человека весит один грамм.

ОТВЕТ

1)

2)

2 балла

ЗАДАНИЕ 14.

В каком городе в 1896 году по инициативе французского общественного деятеля Пьера де Кубертена были проведены первые современные олимпийские игры?

- 1) Сочи; 2) Москва; 3) Афины;
- 4) Париж; 5) Рио-де-Жанейро.

ОТВЕТ

3) Афины; **2 балла**

ЗАДАНИЕ 15. УСТАНОВИ СООТВЕТСТВИЯ МЕЖДУ ДАТАМИ И ИСТОРИЧЕСКИМИ СОБЫТИЯМИ.

- | | |
|-------------|---------------------------------------|
| 1) 1242 год | а) Полёт в космос Юрия Гагарина |
| 2) 1812 год | б) Ледовое побоище |
| 3) 1961 год | в) Начало Великой Отечественной войны |
| 4) 1941 год | г) Отечественная война с Наполеоном |

ОТВЕТ

1-Б

2-Г

3-А

4-В

2 балла:

по 0,5 за верное соответствие